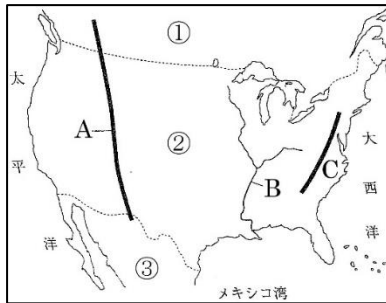


1 次の問いに答えなさい。

① 地図Ⅰの①～③の国名、A～Cの地形名をそれぞれ書け。

地図Ⅰ

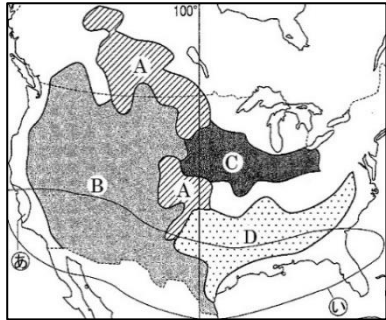


② 地図ⅡのA～Dで行われている農業を、ア～オからそれぞれ選べ。

- ア 綿花 イ 放牧
- ウ 酪農 エ 小麦
- オ とうもろこし

③ 地図Ⅱの㊸で見られる、世界最大のコンピュータなどの先端技術産業が集まった地域を何というか。

地図Ⅱ

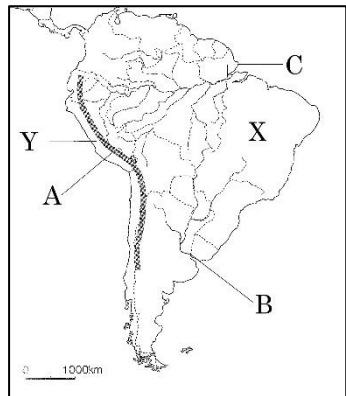


④ 地図Ⅱの㊹に広がる北緯 37 度以南の新しい工業地域を何というか。

⑤ スペイン語を話す、メキシコやラテンアメリカの国から移住してきた人々を何というか。

⑥ 地図ⅢのA～Cの地形名を書け。

地図Ⅲ



⑦ 地図Ⅲの X の国では、さとうきびの作物を原料として、石油に代わるエネルギーを得る燃料をつくっている。このように作物などからつくる燃料を何というか。

⑧ 地図Ⅲの Y のペルーには、16 世紀にスペインに滅ぼされるまで栄えた [] 帝国のマチュ・ピチュ遺跡がある。 [] にあてはまる語句を書け。

⑨ ブラジルは経済成長が著しいため、ロシア、インド、中国などとともに関係を深めている。この関係を何というか。

⑩ オーストラリアの首都はどこか。

⑪ オーストラリア大陸に住んでいる先住民族を何というか。

⑫ オーストラリアでは、第二次世界大戦まで、白人以外の移民は認めない政策をとっていた。このことを何というか。

⑬ 現在、オーストラリアでは⑫の政策は廃止し、さまざまな文化が共存できる社会をみざしている。このような考え方を何というか。

⑭ ニュージーランドに住む先住民族を何というか。

①	①	
	②	
	③	
②	A	山脈
	B	川
	C	山脈
③	A	
	B	
	C	
	D	
④		
⑤	A	山脈
	B	川
	C	川
⑥		
⑦		
⑧		
⑨		
⑩		
⑪		
⑫		
⑬		
⑭		

